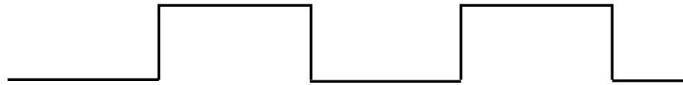


Les mesures

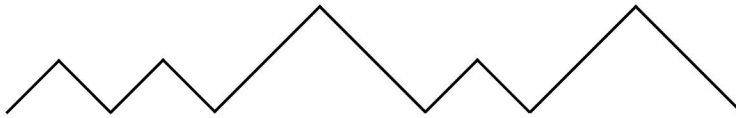


Nom _____

1. a) Mesure chaque chemin.



cm



cm

b) Quel chemin est le plus court? _____

2. Trouve le terme manquant.

a) 70 cm = _____ dm

c) 5 dm = _____ cm

b) 10 cm = _____ dm

d) 2 dm = _____ cm

3. Quelle mesure est la plus grande? Encerle la bonne réponse.

a) 23 cm ou 4 dm

c) 80 cm ou 3 dm

b) 7 dm ou 40 cm

d) 2 dm ou 40 cm

Pour les experts

Combien de dm y a-t-il dans 780 cm? _____

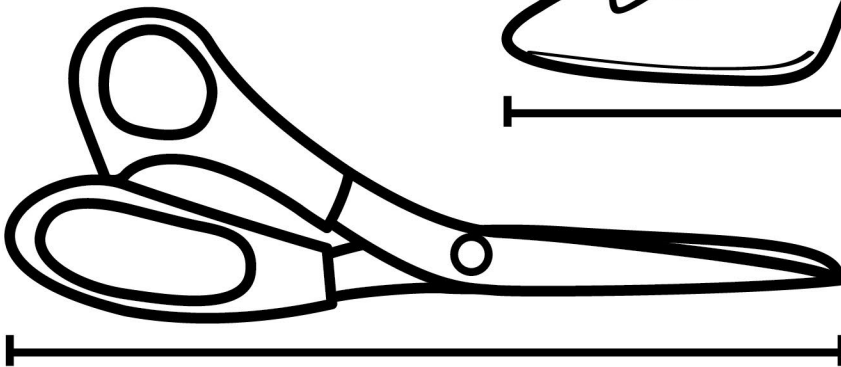




Évaluation → Encerle la réponse.

J'ai trouvé cet exercice... très facile facile moyen difficile très difficile
Mon professeur... excellent très bien bien moyen à pratiquer

Nom _____

Mesures et estimations

1. Estime la longueur des objets et des trajets suivants.
2. Vérifie ton estimation à l'aide d'une règle.



Trajet 1



Trajet 2




Trajet 3

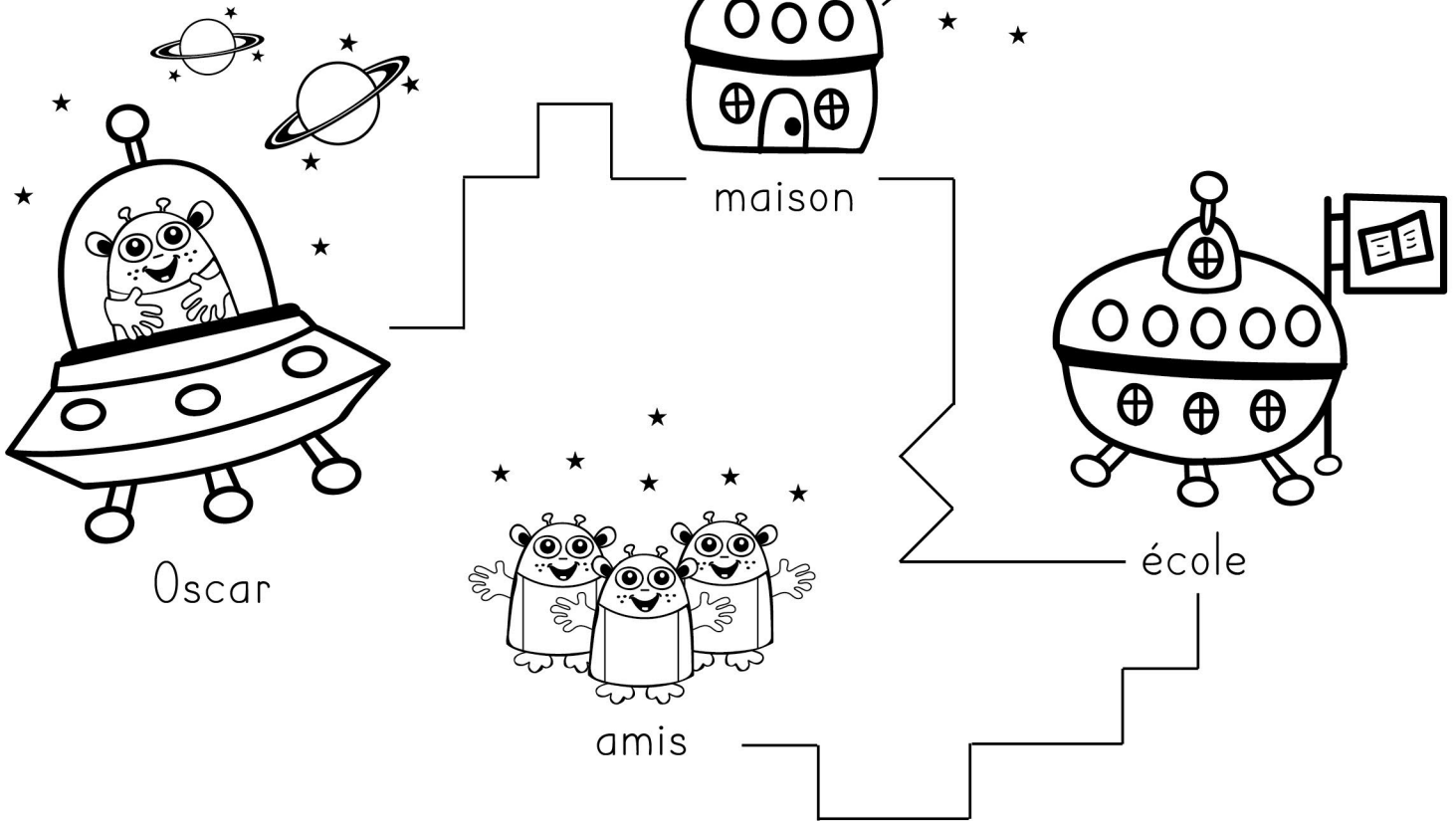


	Estimation	Mesure
manette		
soulier		
dinosaure		
ciseaux		
gâteau		
trajet 1		
trajet 2		
trajet 3		

Les mesures



Nom _____



- Combien de cm mesure le chemin entre Oscar et sa maison? _____
- Oscar a parcouru 18 cm, où est-il allé? _____
- Combien de cm y a-t-il entre l'école et ses amis? _____
- Si Oscar veut voir ses amis, combien de cm doit-il parcourir? _____

Pour les experts

Avec quel outil pourrais-tu mesurer ce chemin? Encerle la bonne réponse.



- a) une règle b) un élastique c) une corde

Évaluation → Encerle la réponse.

J'ai trouvé cet exercice... très facile facile moyen difficile très difficile
Mon professeur... excellent très bien bien moyen à pratiquer