











L'œuf ou la poule?

Nom _____

Trouve 2 nombres dont la somme est 100.

Encercle-les et écris-les dans les carrés ci-dessous. Répète cette consigne jusqu'à ce qu'il ne reste qu'un seul nombre qui ne peut être encerclé. Est-ce un œuf ou une poule?



$$\square + \square = 100$$

$$\square + \square = 100$$

$$\square + \square = 100$$

$$\square + \square = 100$$

$$\square + \square = 100$$

$$\square + \square = 100$$

$$\square + \square = 100$$

Le nombre restant est:

Réponse: œuf ou poule

